

Abschlussprüfung Sommer 2018

5541

1

Lagerprozesse

Fachlagerist
Fachlageristin

7 ungebundene Aufgaben
90 Minuten Prüfungszeit
100 Punkte

Die folgenden Aufgaben beziehen sich auf das nachstehend beschriebene Unternehmen. Beachten Sie bei diesen Aufgaben die folgende Unternehmensbeschreibung und versetzen Sie sich in die Situation eines Mitarbeiters/einer Mitarbeiterin! Bei **Rechenaufgaben** ist grundsätzlich der **Rechenweg** anzugeben!

Firma Geschäftssitz Registergericht	Brauer Logistics GmbH Luisenstraße 36, 90312 Nürnberg Amtsgericht Nürnberg HRB 6217
Geschäftswerk	Warenannahme, Lagern, Kommissionieren, Verpacken und Versenden von Gütern
Bankverbindung	Bankhaus Beyer AG IBAN: DE15 7605 2012 0000 0011 22 BIC: SSKNDE77123
Mitarbeiter	85
Auszubildende	9

1. Aufgabe (20 Punkte, ca. 14 Minuten Bearbeitungszeit)

Situation:

Die Brauer Logistics GmbH erhielt heute (25. April 2018) eine Sendung aus Österreich. Der Absender hat der Lieferung den abgebildeten Ladeschein beigefügt. Die Prüfung in Anwesenheit des Fahrers ist bereits abgeschlossen. Die tatsächlich gelieferte Ware stimmt mit dem Ladeschein überein.

Johann Meier
Bergstr. 37
A-4020 Linz
Tel +43 732 / 55 00 00
Fax +43 732 / 55 00 99
Mobil +43 15792360947
info@handelskette.at





Johann Meier Handelskette, Bergstr. 37, A-4020 Linz

Brauer Logistics GmbH
Luisenstr. 36
90312 Nürnberg

Lieferscheinnummer P88 - 5829
Bestelldatum 03.04.2018
Lieferdatum 25.04.2018
Kundennummer 91827364

Linz, den 24.04.2018

Ladeschein 5987

Pos.	Menge	Einheit	Bezeichnung	Gewicht je Position	Barcode
1	7	Fass/50 l	Rotwein	420 kg	
2	90	Schachtel/5 Stück	T-Shirts	90 kg	
3	25	Sack/25 kg	Kartoffeln	625 kg	
4	4	Holzboxe/40 Flaschen	Glasflaschen	40 kg	

4 Position(en)

Die Ware bleibt bis zur vollständigen Bezahlung unser Eigentum.
Ich habe die Ware in ordnungsgemäßem Zustand erhalten.

Linz, 24.04.2018 Hofstetter
Ort, Datum Unterschrift Fahrer

1.1 (12 Punkte)

Sie sollen für die Lieferung einen Wareneingangsschein ausfüllen. Bei der Brauer Logistics GmbH werden nur bestellte Güter eingelagert (siehe abgebildete Bestellung). Nicht bestellte oder zu viel gelieferte Güter werden ins Retourenlager verbracht. Füllen Sie den abgebildeten Wareneingangsschein aus, indem Sie Ihre Ergebnisse in die grau hinterlegten Felder eintragen!

Brauer Logistics GmbH
Luisenstr. 36
90312 Nürnberg
Tel.: 0911 / 988340
Fax: 0911 / 988350

Brauer Logistics GmbH • Luisenstr. 36 • 90312 Nürnberg

Firma
Johann Meier
Bergstr. 37
A-4020 Linz

Datum: 03.04.2018

BESTELLUNG

Hiermit bestellen wir aus Ihrem aktuellen Katalog zur sofortigen Lieferung:

1	789632548	Rotwein	Fass/50 l	14	400,00 Euro	5.600,00 Euro
2	39123439	T-Shirts	Schachtel/5 Stück	90	30,00 Euro	2.700,00 Euro
3	26598568	Kartoffeln	Sack/25 kg	20	247,00 Euro	4.940,00 Euro
4	526589748	Wandfarbe	Eimer/10 l	15	24,95 Euro	374,25 Euro
5	45968213	Glasflaschen	Holzbox/40 Flaschen	1	79,54 Euro	79,54 Euro

Warenwert 13.693,79 Euro
Verpackungskosten 126,58 Euro
Rechnungssumme 13.820,37 Euro

Ort: Nürnberg Datum: 03.04.2018 Unterschrift: R. Schmidt

Brauer Logistics GmbH – Luisenstr. 36 – 90312 Nürnberg

Wareneingangsschein

Lieferant (Firma, Adresse)	Datum der Anlieferung

Position	Artikelnummer	Artikelbezeichnung	Einheit	Menge	Bemerkungen
1	789632548	Rotwein	Fass/50 l		
2	39123439	T-Shirts	Schachtel/5 Stück		
3	26598568	Kartoffeln	Sack/25 kg		
4	45968213	Glasflaschen	Holzbox/40 Flaschen		

Datum der Erstellung	ausgefüllt durch

3. Aufgabe (14 Punkte, ca. 12 Minuten Bearbeitungszeit)

Situation:

Vor der Einlagerung findet eine Vorverpackung in Ihrem Unternehmen statt. Es werden Verkaufseinheiten gebildet und die erforderlichen Kennzeichen angebracht.

3.1 (3 Punkte)

Nennen Sie **3** Vorteile, die die Vorverpackung des Lagergutes hat!

3.2 (4 Punkte)

Die Verkaufseinheiten werden gebildet durch Komplettierung oder Portionierung.

3.2.1 Erklären Sie den Begriff der Komplettierung!

3.2.2 Erklären Sie den Begriff der Portionierung!

3.3 (1 Punkt)

Nennen Sie **1** Vorteil, die die Komplettierung vor der Einlagerung bietet!

3.4 (2 Punkte)

Sie sollen die abgebildeten Handhabungshinweise an den Waren anbringen!

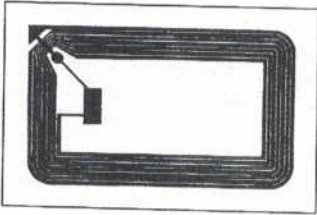
Geben Sie die Bedeutung der Handhabungshinweise an!





3.5 (4 Punkte)

An einigen Verkaufseinheiten bringen Sie RFID-Transponder an (siehe Abbildung).



3.5.1 Erläutern Sie die RFID-Technik!

3.5.2 Nennen Sie 2 Vorteile der RFID-Technik gegenüber Barcodes!

4. Aufgabe (14 Punkte, ca. 17 Minuten Bearbeitungszeit)

Situation:

Sie sind als Mitarbeiter/-in der Brauer Logistics GmbH in Entscheidungen zur Warenbestandsführung eingebunden. Sie zeigen, dass Sie mit den Bestandsarten und der Ermittlung von Lagerkennzahlen vertraut sind.

4.1 (6 Punkte)

Für alle gelagerten Artikel ist ein Mindestbestand und ein Höchstbestand festgelegt.

4.1.1 Geben Sie 2 Gründe an, warum ein Mindestbestand festgelegt wird!

4.1.2 Geben Sie 1 Grund an, warum ein Höchstbestand festgelegt wird!

Situation:

Sie sind in der Kommissionierung der Brauer Logistics GmbH eingesetzt. Sie sollen einen Praktikanten in diesem Tätigkeitsbereich einweisen.

5.1 (2 Punkte)

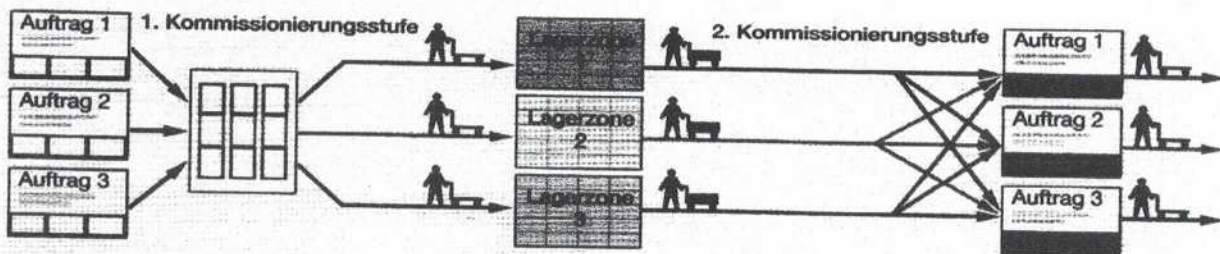
Erklären Sie, was unter Kommissionierung verstanden wird!

5.2 (3 Punkte)

Nennen Sie 3 Gründe für die Kommissionierung von Gütern!

5.3 (5 Punkte)

Im Handbuch der Brauer Logistics GmbH für die Kommissionierprozesse ist die folgende Abbildung dargestellt.



5.3.1 Geben Sie die Bezeichnung für die abgebildete Kommissioniermethode an!

5.3.2 Beschreiben Sie die Tätigkeit auf der 1. und die Tätigkeit auf der 2. Kommissionierstufe!

1. Kommissionierstufe:

2. Kommissionierstufe:

5.3.3 Nennen Sie 1 Vorteil dieser Kommissioniermethode gegenüber anderen Kommissioniermethoden!

5.3.4 Nennen Sie 1 Nachteil dieser Kommissioniermethode gegenüber anderen Kommissioniermethoden!!

5.4 (8 Punkte)

In einer Lagerzone soll zukünftig beleglos nach dem Pick-by-Voice-Verfahren kommissioniert werden (siehe Abbildung).



5.4.1 Beschreiben Sie die Vorgehensweise beim Pick-by-Voice-Verfahren anhand von **4** Tätigkeiten!

5.4.2 Nennen Sie **2** Vorteile des Pick-by-Voice-Verfahrens gegenüber der beleghaften Kommissionierung!

5.4.3 Nennen Sie **2** Nachteile des Pick-by-Voice-Verfahrens gegenüber der beleghaften Kommissionierung!

Situation:

Sie sind in der Versandabteilung der Brauer Logistics GmbH eingesetzt und finden 2 Paletten vor, die Sie für den Versand vorbereiten sollen.



Abbildung 1




Abbildung 2

6.1 (4 Punkte)

Die Schachteln sind auf den Paletten unterschiedlich gestapelt.

6.1.1 Nennen Sie jeweils die Bezeichnung der abgebildeten Stapelmethode!

Stapelmethode Abbildung 1:

Stapelmethode Abbildung 2:

6.1.2 Nennen Sie **1** Vorteil der in Abbildung 1 abgebildeten Stapelmethode gegenüber der in Abbildung 2 abgebildeten Stapelmethode!

6.1.3 Nennen Sie **1** Vorteil der in Abbildung 2 abgebildeten Stapelmethode gegenüber der in Abbildung 1 abgebildeten Stapelmethode!

6.2 (4 Punkte)

Die Schachteln auf den Paletten sollen gesichert werden. Dafür wird bei der Brauer Logistics GmbH sowohl Stretchfolie als auch Schrumpffolie verwendet. Beschreiben Sie die Vorgehensweise beim Stretchen und die Vorgehensweise beim Schrumpfen!

Vorgehensweise beim Stretchen:

Vorgehensweise beim Schrumpfen:

6.3 (3 Punkte)

Einige der auf den Paletten gestapelten Schachteln enthalten wertvolle Elektronikbauteile. Diese sollen durch geeignete Maßnahmen vor Diebstahl geschützt werden.

Geben Sie **3** Maßnahmen an, um die Schachteln vor Diebstahl zu schützen!

6.4 (3 Punkte)

In der Versandabteilung sind die folgenden Sicherheitszeichen angebracht.



Abbildung 1



Abbildung 2



Abbildung 3

Nennen Sie die Bedeutung der abgebildeten Sicherheitszeichen!

Abbildung 1:

Abbildung 2:

Abbildung 3:

7. Aufgabe (16 Punkte, ca. 15 Minuten Bearbeitungszeit)

Situation:

Sie sind in der Versandabteilung der Brauer Logistics GmbH tätig. Es liegt ein Versandauftrag für Maschinenteile von Frankfurt am Main nach New York, USA, vor. Die Sendung hat die Maße 1,2 m x 0,8 m x 0,6 m (Länge x Breite x Höhe) und ein Gewicht von 200 kg inklusive Verpackung.


7.1 (2 Punkte)


Nennen Sie die 2 Verkehrsmittel, die für den überwiegenden Teil des Transportweges in Frage kommen!

7.2 (4 Punkte)

Nennen Sie für jedes in Frage kommende Verkehrsmittel 2 Vorteile gegenüber dem anderen in Frage kommenden Verkehrsmittel!

Verkehrsmittel	Je 2 Vorteile gegenüber dem anderen Verkehrsmittel





Abschlussprüfung Sommer 2018

5541

2 Güterbewegung

Fachlagerist
Fachlageristin

30 Aufgaben
60 Minuten Prüfungszeit
100 Punkte

Bearbeiten Sie die Aufgaben, indem Sie die Kennziffern der richtigen Antworten, entsprechend den Bearbeitungshinweisen auf dem Deckblatt, in die Kästchen auf dem Lösungsbogen eintragen! Bei Offen-Antwort-Aufgaben (z. B. Rechenaufgaben) tragen Sie das Ergebnis in die Kästchen auf dem Lösungsbogen ein!

Mehrere Aufgaben beziehen sich auf das nachstehend beschriebene Unternehmen. Beachten Sie bei diesen Aufgaben bitte die folgende Unternehmensbeschreibung und versetzen Sie sich in die Situation eines Mitarbeiters/einer Mitarbeiterin!

Unternehmensbeschreibung

Firma Geschäftssitz Registriergericht	Brauer Logistics GmbH Luisenstraße 36, 90312 Nürnberg Amtsgericht Nürnberg HRB 6217
Geschäftszweck	Warenannahme, Lagern, Kommissionieren, Verpacken und Versenden von Gütern
Bankverbindung	Bankhaus Beyer AG IBAN: DE15 7605 2012 0000 0011 22 BIC: SSKNDE77123
Mitarbeiter/-innen	85
Auszubildende	9

Situation zur 1. und 2. Aufgabe

Sie sind als Fachlagerist/-in in der Brauer Logistics GmbH im Versand- und Verpackungsbereich eingesetzt.

1. Aufgabe

Für die anfallenden Tätigkeiten werden verschiedene Arbeitsmittel und Hilfsmittel benötigt. Ordnen Sie zu, indem Sie die Kennziffern der 3 Tätigkeiten in die Kästchen neben den Arbeitsmitteln und Hilfsmitteln, die bei diesen Tätigkeiten benötigt werden, eintragen! Übertragen Sie anschließend Ihre senkrecht angeordneten Lösungsziffern in dieser Reihenfolge von links nach rechts in den Lösungsbogen!

Tätigkeiten

- Ein Packstück wird mit Folie umwickelt, entweder per Hand oder maschinell.
- Um ein Packstück wird ein Band geführt, danach mit einem Gerät gespannt und mit einer Klemme gesichert oder verschweißt.
- Eine Folienhaube wird über ein Packstück gestülpt und die Folie durch Hitze zusammen gezogen.

Arbeitsmittel und Hilfsmittel

Kombi-Umreifungsgerät

Handwickelgerät

PE-Haube

Stretchfolie

Kunststoffband

Hauben-Schrumpfanlage


2. Aufgabe

Welche der folgenden Packmittel und Packhilfsmittel sind als Verschleißmittel geeignet?

- Faltschachtel, Rollenwellpappe, Luftpolsterfolie
- Kantenschutz, Begleittasche, Ölpapier
- Klebeband, Folie, Umreifungsband
- Packpapier, Seidenpapier, Knüllpapier
- Etiketten, Indikatoren, Holzwolle

3. Aufgabe

Geben Sie an, welches der abgebildeten Fördermittel der Gruppe der Stetigförderer zuzuordnen ist!



Situation zur 4. bis 6. Aufgabe

Sie sind als Fachlagerist/-in im Versandlager der Brauer Logistics GmbH beschäftigt. Zu Ihren Aufgaben gehört das Verladen von Gütern auf Fahrzeuge sowie die Ladungssicherung. Sie erhalten von Ihrem Vorgesetzten die Anweisung, eine 12 t schwere Maschine auf einen Lkw zu verladen und vorschriftsmäßig zu verzurren. Die Maschine kann von einem Stapler unterfahren werden und besitzt 4 Anschlagpunkte für Ladegeschirre. Sie ist im Freigelände abgestellt.

4. Aufgabe

Um die Maschine zu verladen stehen Ihnen die folgenden Arbeitsmittel, Förderzeuge und Hebezeuge zur Verfügung. Wählen Sie das Arbeitsmittel aus, mit dem Sie unter Beachtung eines schonenden Materialumgangs und unter Anwendung der Sicherheitsvorschriften eine ordnungsgemäße Verladung auf den Lkw durchführen können!

1. Portalkran, maximal zulässige Traglast 10 t
2. Hebebühne, maximal zulässige Traglast 16 t
3. Mobilkran, maximal zulässige Traglast 16 t
4. Dieselstapler, maximal zulässige Traglast 9 t
5. 2 Stück Schwerlastrollen und Ladebrücke, maximal zulässige Traglast 10 000 kg pro Rolle

5. Aufgabe

Welches Ladehilfsmittel wählen Sie aus, um eine möglichst sichere Verladung zu gewährleisten?

1. Eine Vierstrang-Anschlagkette mit einer maximalen Tragkraft von 15 t
2. Eine Stahlkette mit maximaler Zugfestigkeit von 20 t
3. Ein Zweistrang-Anschlagseil mit maximaler Tragkraft von 12 t
4. Einen Zurrurt mit maximaler Zugfestigkeit von 20 t
5. Ein extradickes Zurrdratseil mit maximaler Zugkraft von 12 t

6. Aufgabe

Durch welche Maßnahme können Sie sicherstellen, dass die Maschine auf der Lkw-Ladefläche mit optimalem Gleit-Reibbeiwert steht?

1. Durch Unterlegen von aufgerautem Holz
2. Durch Unterlegen von Anti-Rutschmatten
3. Durch Unterlegen von extra dicker Wellpappe
4. Durch Unterlegen von profilierten Blechen
5. Durch Unterlegen von Balken mit Rechteckprofil

Situation zur 26. und 27. Aufgabe

Im Abstellbereich der Fördermittel des offenen Großteilleagers finden Sie größere Ölsuren im Fahrbereich.

26. Aufgabe

Welche **3** der aufgeführten Folgen können daraus für die Umwelt, den Menschen oder den Betrieb entstehen?

1. Belastung der Luft
2. Belastung des Grundwassers
3. Beschädigung des Gabelstaplers an den Gabelzinken
4. Erhöhte Kosten für die Brauer Logistics GmbH
5. Ordnungswidrigkeitsverfahren durch das Umweltamt
6. Beschädigung der Regalböden
7. Rostbildung an den Regalständern

27. Aufgabe

Welche **2** wirkungsvollen Maßnahmen sind sofort einzuleiten, um die Ölsuren zu beseitigen und den entstandenen Schaden zu minimieren?

1. Frischluft zur Austrocknung der Ölflecken einsetzen
2. Bindemittel aufbringen und danach sachgerecht aufnehmen und entsorgen
3. Ordnungsamt informieren
4. Verunreinigtes Erdreich aufnehmen und sachgerecht entsorgen lassen
5. Schadstelle mit Sand abdecken und eintrocknen lassen, ohne Entsorgung
6. Wasser zur Verdünnung der Ölreste einsetzen

28. Aufgabe

Bei der Brauer Logistics GmbH werden auch wassergefährdende Stoffe gelagert. Bei welchen der angegebenen Stoffe handelt es sich ausschließlich um wassergefährdende Stoffe?

- | | |
|--|---|
| 1. Dieselmotoren, Waschpulver, Limonaden | 4. Autoshampoo, Saftreste, Chlor |
| 2. Honig, Löschwasser, Benzine | 5. Rasierschaum, Zahnpasta, Spirituosen |
| 3. Rohöle, Benzine, Heizöle | |

29. Aufgabe

Eine Europalette soll nach London, Großbritannien, versendet werden. Zum Schutz des Packstücks vor Nässe und vor Bruchgefahr wird das Packstück mit zwei Handhabungshinweisen versehen. Wählen Sie die **2** zu verwendenden Handhabungshinweise aus!

1. This way up
2. Protect from heat and radioactive sources
3. Fragile, Handle with care
4. Temperature limitations
5. Centre of gravity
6. Keep dry

30. Aufgabe

Sie arbeiten in der Warenannahme der Brauer Logistics GmbH. Bringen Sie die folgenden Tätigkeiten bei der Warenannahme in die richtige Reihenfolge, indem Sie die Ziffern 1 bis 7 in die Kästchen neben den Tätigkeiten eintragen! Übertragen Sie anschließend Ihre senkrecht angeordneten Lösungsziffern in dieser Reihenfolge von links nach rechts in den Lösungsbogen! Beginnen Sie mit „Sie begrüßen den Frachtführer an der Rampe“!

Sie nehmen den Lieferschein vom Frachtführer entgegen, um die Lieferberechtigung zu prüfen.

Sie verabschieden den Frachtführer.

Sie informieren nach der Verabschiedung des Frachtführers die Kollegen im Wareneingang, dass sie mit der Wareneingangskontrolle (Vollkontrolle) beginnen können.

Sie prüfen die Lieferberechtigung anhand des Lieferscheins.

Sie begrüßen den Frachtführer an der Rampe.

Sie stellen bei der ersten Sichtkontrolle keine Mängel fest und unterschreiben den Lieferschein.

Sie übergeben den unterschriebenen Lieferschein an den Frachtführer.

Abschlussprüfung Sommer 2018

5541

3

Wirtschafts- und
Sozialkunde

Fachlagerist
Fachlageristin

30 Aufgaben

60 Minuten Prüfungszeit

100 Punkte

Situation zur 5. bis 9. Aufgabe

Svenja Steiner, 16 Jahre alt, wird eine Berufsausbildung in der Brauer Logistics GmbH beginnen.

5. Aufgabe

Svenja Steiner hat sich auf die Stellenanzeige „Auszubildender zum Fachlageristen/Auszubildende zur Fachlageristin“ beworben. Welches Gesetz schreibt vor, dass sich die Anzeige an männliche und weibliche Bewerber richten muss?

1. Das Betriebsverfassungsgesetz
2. Das Berufsbildungsgesetz
3. Das Jugendarbeitsschutzgesetz
4. Das Allgemeine Gleichbehandlungsgesetz
5. Das Bürgerliche Gesetzbuch

6. Aufgabe

Svenja Steiners Berufsausbildungsvertrag wird vorbereitet.

Prüfen Sie, welche Vereinbarung noch korrigiert werden muss, weil diese gegen gesetzliche Bestimmungen **verstößt!**

1. „Frau Steiner wird während der Arbeitszeit auf Kosten des Ausbildungsbetriebes an einem überbetrieblichen Erste-Hilfe-Kurs des Roten Kreuzes teilnehmen.“
2. „Der Auszubildende verpflichtet sich, einen persönlich und fachlich geeigneten Ausbilder ausdrücklich mit der Ausbildung von Frau Steiner zu beauftragen und diesen der Auszubildenden jeweils schriftlich bekannt zu geben.“
3. „Die Auszubildende verpflichtet sich, Werkzeug, Maschinen und sonstige Einrichtungen pfleglich zu behandeln und sie nur zu den ihr übertragenen Arbeiten zu verwenden.“
4. „Die Probezeit beträgt 4 Monate.“
5. „Bei Kündigung durch die Auszubildende innerhalb der Probezeit hat die Auszubildende eine Vertragsstrafe in Höhe der monatlichen Ausbildungsvergütung an den Ausbildungsbetrieb zu zahlen.“

7. Aufgabe

Svenja Steiner, ihre Eltern und der Auszubildende unterschreiben den Ausbildungsvertrag.

Welche **3** Verpflichtungen geht Frau Steiner damit ein?

1. Sie muss über Betriebsgeheimnisse Stillschweigen bewahren.
2. Sie muss regelmäßig den Berufsschulunterricht besuchen.
3. Sie muss in die Gewerkschaft eintreten.
4. Sie muss die Kosten für die Abschlussprüfung tragen.
5. Sie muss zu Beginn der Ausbildung einen Ausbildungsrahmenplan aufstellen.
6. Sie muss ohne zusätzlichen Ausgleich Mehrarbeit erbringen.
7. Sie muss regelmäßig Ausbildungsnachweise führen.

8. Aufgabe

Arbeitsbeginn im Ausbildungsbetrieb ist am Dienstag um 07:15 Uhr, Arbeitsende ist um 16:30 Uhr.

Stellen Sie anhand des abgebildeten Gesetzesauszuges fest, wann Svenja Steiner ihre erste Pause spätestens beginnen muss!

1. Um 07:45 Uhr
2. Um 11:15 Uhr
3. Um 11:45 Uhr
4. Um 12:45 Uhr
5. Um 13:30 Uhr

§ 11 Ruhepausen, Aufenthaltsräume

(1) Jugendlichen müssen im Voraus feststehende Ruhepausen von angemessener Dauer gewährt werden.

...

(2) Die Ruhepausen müssen in angemessener zeitlicher Lage gewährt werden, frühestens eine Stunde nach Beginn und spätestens eine Stunde vor Ende der Arbeitszeit. Länger als viereinhalb Stunden hintereinander dürfen Jugendliche nicht ohne Ruhepausen beschäftigt werden.

9. Aufgabe

Svenja Steiner erhält von ihrer Tante zum 17. Geburtstag einen 200-€-Schein geschenkt. Da die Eltern mit der Tante Streit haben, fordern sie Svenja auf, das Geld wieder zurückzugeben. Prüfen Sie die Rechtslage!

1. Da es sich hier um ein Rechtsgeschäft handelt, das Svenja nur rechtliche Vorteile bringt, benötigt sie die Einwilligung der Eltern nicht.
2. Da Svenja noch zur Berufsschule geht, benötigt sie die Einwilligung der Eltern.
3. Svenja darf das Geld behalten, wenn sie dies schriftlich mit ihrer Tante vereinbart.
4. Svenja kann das Geld nur mit Einwilligung ihrer Eltern annehmen.
5. Die Eltern können als Erziehungsberechtigte stets bestimmen, dass Schenkungen zurückgegeben werden müssen.

15. Aufgabe

Ihnen wird gemeldet, dass Frau Hofer wegen Arbeitsunfähigkeit ausfällt. Frau Hofer war mit der Straßenbahn direkt von zuhause zur Brauer Logistics GmbH gefahren. Beim Aussteigen war sie unachtsam und zog sich eine Verletzung am linken Fuß zu. Geben Sie an, wer **letztlich** die Kosten für die Heilbehandlung trägt!

1. Die private Unfallversicherung von Frau Hofer
2. Die Haftpflichtversicherung der Brauer Logistics GmbH
3. Die Unfallversicherung der zuständigen Verkehrsbetriebe
4. Die Krankenversicherung von Frau Hofer
5. Die Berufsgenossenschaft der Brauer Logistics GmbH

Situation zur 16. bis 19. Aufgabe

Der Mitarbeiter Herr Probst erhielt nach 1-jähriger Betriebszugehörigkeit die Kündigung vom Arbeitgeber.

16. Aufgabe

Die Kündigung ging Herrn Probst am 24.04.2018 zu.

Mit Ablauf welches Tages endet das Arbeitsverhältnis?

Beachten Sie den nachstehenden Auszug aus dem Bürgerlichen Gesetzbuch!

Tragen Sie das Datum (TT.MM.JJJJ) in die Kästchen auf dem Lösungsbogen ein!

§ 622 Kündigungsfristen bei Arbeitsverhältnissen

(1) Das Arbeitsverhältnis eines Arbeiters oder eines Angestellten (Arbeitnehmers) kann mit einer Frist von vier Wochen zum Fünfzehnten oder zum Ende eines Kalendermonats gekündigt werden.

.....

17. Aufgabe

Herr Probst ist daraufhin ohne Beschäftigung.

Von wem erhält Herr Probst nach Beendigung des Arbeitsverhältnisses Leistungen für seinen Lebensunterhalt?

1. Von der Gewerkschaft
2. Von der Berufsgenossenschaft
3. Von der Agentur für Arbeit
4. Vom Deutschen Speditions- und Logistikverband
5. Von der Gewerbeaufsichtsbehörde

18. Aufgabe

Herr Probst erhält Arbeitslosengeld (ALG I). Er ist mit der Höhe des Arbeitslosengeldes nicht einverstanden und möchte vor Gericht klagen. Geben Sie das zuständige Gericht an!

1. Finanzgericht
2. Arbeitsgericht
3. Sozialgericht
4. Amtsgericht
5. Landgericht

19. Aufgabe

Herr Probst plant seine berufliche Zukunft nach der Kündigung. Bringen Sie die folgenden Schritte in die richtige Reihenfolge, indem Sie die Ziffern 1 bis 6 in die Kästchen neben den Schritten eintragen! **Beginnen Sie mit:** „Zusammenstellung der Bewerbungsunterlagen“! Übertragen Sie anschließend Ihre senkrecht angeordneten Lösungsziffern in dieser Reihenfolge von links nach rechts in den Lösungsbogen!

Bewerbung um einen neuen Arbeitsplatz

Bewerbungsgespräch

Zusammenstellung der Bewerbungsunterlagen

Abschluss des Arbeitsvertrages

Ablauf der 6-monatigen Probezeit

Erste Entgeltabrechnung

Situation zur 20. bis 24. Aufgabe

Die Mitarbeiterin Luisa Burger, 18 Jahre alt, steht am 11.04.2018 um 06:00 Uhr auf. Frau Burger fühlt sich krank und kann ihren Dienst um 08:00 Uhr nicht antreten.

20. Aufgabe

Welche gesetzliche Pflicht hat Frau Burger am 11.04.2018?

1. Sie muss den Betriebsrat informieren.
2. Sie muss zum Arzt gehen.
3. Sie muss die Krankenkasse spätestens bis Dienstbeginn informieren.
4. Sie muss den Arbeitgeber im Laufe des Tages informieren.
5. Sie muss den Arbeitgeber unverzüglich über die Arbeitsunfähigkeit informieren.

21. Aufgabe

Einige Tage später meldet Frau Burger dem Arbeitgeber, dass sie schwanger ist, und legt ein Attest vor, wonach mit der Entbindung am 20. Oktober 2018 zu rechnen ist.

Aufgrund von Komplikationen wird Frau Burger im 4. bis 6. Schwangerschaftsmonat für insgesamt 9 Wochen arbeitsunfähig geschrieben.

Geben Sie an, für wie viele Wochen Frau Burger Entgeltfortzahlung vom Arbeitgeber erhält!

22. Aufgabe

Frau Burger bestellt im Internet bei der Möbel GmbH ein Kinderbett. Sie erhält eine Auftragsbestätigung, in der die Möbel GmbH über das gesetzliche Widerrufsrecht des Käufers informiert. Als das Kinderbett geliefert wird, gefällt es Frau Burger nicht und sie möchte es zurückgeben.

Innerhalb welcher Frist ab Lieferung hat Frau Burger ein gesetzliches Recht auf Widerruf?

Tragen Sie die Anzahl der Tage in die Kästchen auf dem Lösungsbogen ein!

23. Aufgabe

Am 20. Oktober 2018 bringt Frau Burger ein gesundes Kind zur Welt.

Nach wie vielen Wochen darf sie frühestens wieder arbeiten?

24. Aufgabe

Welche rechtlichen Fähigkeiten erwirbt das Kind im Laufe des Lebens? Ordnen Sie zu, indem Sie die Kennziffern der 3 Altersstufen in die Kästchen neben den 3 rechtlichen Fähigkeiten eintragen! Übertragen Sie anschließend Ihre senkrecht angeordneten Lösungsziffern in dieser Reihenfolge von links nach rechts in den Lösungsbogen!

Altersstufen

1. Mit Vollendung der Geburt
2. Mit Vollendung des 7. Lebensjahres
3. Mit Vollendung des 18. Lebensjahres

Rechtliche Fähigkeiten

Beginn der unbeschränkten Geschäftsfähigkeit

Beginn der Rechtsfähigkeit

Beginn der beschränkten Geschäftsfähigkeit

25. Aufgabe

In der Brauer Logistics GmbH sind Mitarbeiter verschiedener Nationalitäten beschäftigt.

Welcher Mitarbeiter benötigte eine Arbeitserlaubnis, um in der Bundesrepublik Deutschland bzw. in einem EU-Staat arbeiten zu dürfen?

1. Daniel Roussel aus Frankreich
2. Bruno Martinez aus Spanien
3. Christian Niedermaier aus Österreich
4. Willem de Bruyne aus Belgien
5. Fedor Smirnow aus Russland

26. Aufgabe

Die Brauer Logistics GmbH möchte zum Umweltschutz beitragen.

Prüfen Sie, welche 2 Maßnahmen der Brauer Logistics GmbH dem Umweltschutz dienen!

1. Die Auszubildenden, die eine Monatskarte für die öffentlichen Verkehrsmittel erwerben, erhalten einen Zuschuss zu den Fahrtkosten.
2. Den Mitarbeitern im Büro werden eine Kaffee-Kapsel-Maschine und Einweg-Becher zur Verfügung gestellt.
3. Mitarbeiter, die mit dem eigenen Auto zur Arbeit fahren, können auf dem Betriebsgelände kostenlos parken.
4. Die Wasserhähne werden mit Start-Stopp-Sensoren ausgestattet.
5. Wertstoffe (z. B. Glas, Papier etc.) werden zusammen über den Restmüll entsorgt.
6. Bio-Kartoffeln werden nicht mehr aus der Region bezogen, sondern von einem preisgünstigeren Anbieter aus Spanien.

27. Aufgabe

Sie kaufen Verpackungsmaterial für die Brauer Logistics GmbH. Die Zahlungsbedingungen des Händlers lauten:

Zahlbar innerhalb von 30 Tagen ohne Abzug.
Bei Zahlung innerhalb von 10 Tagen gewähren wir einen Nachlass von 3 %."

Bestimmen Sie den Fachbegriff für diesen Nachlass!

1. Provision
2. Skonto
3. Dividende
4. Bonus
5. Naturalrabatt

28. Aufgabe

Sie bestellen für die Brauer Logistics GmbH 30 Blumenvasen aus Metall. Die Vasen werden in großen Pappkartons geliefert. Nach zwei Tagen werden die Vasen erstmals verwendet. Sie stellen fest, dass sämtliche Vasen eine undichte Schweißnaht haben und somit unbrauchbar sind. Wie verhalten Sie sich richtig?

1. Sie verlangen die Lieferung mangelfreier Ware.
2. Sie treten vom Kaufvertrag zurück.
3. Sie können nichts mehr unternehmen, da Sie den Mangel zu spät festgestellt haben.
4. Sie verlangen die Reparatur der Vasen.
5. Sie reklamieren und verlangen Preisminderung.

29. Aufgabe

Bei der Erfüllung von Kaufverträgen kann es zu Störungen kommen. Ordnen Sie zu, indem Sie die Kennziffern der **3** Fälle in die Kästchen neben den 3 Kaufvertrags-Störungen eintragen! Übertragen Sie anschließend Ihre senkrecht angeordneten Lösungsziffern in dieser Reihenfolge von links nach rechts in den Lösungsbogen!

Fälle

1. Im Kaufvertrag (Fixkauf) wurde vereinbart, dass der Käufer die Ware am 23.04.2018 erhält.
Der Lieferer übergab dem Käufer die Ware aber erst am 25.04.2018.
2. Der Lieferer wollte die Ware, wie vereinbart, am 24.04.2018 liefern.
Der Käufer wollte die Ware aber nicht mehr, weil sie ihm zu teuer war.
3. Der Rechnungsbetrag war am 23.04.2018 fällig.
Der Käufer überwies den Rechnungsbetrag am 24.05.2018.

Kaufvertrags-Störungen

Lieferungsverzug

Zahlungsverzug

Annahmeverzug

30. Aufgabe

Sie planen eine Urlaubsreise.

In welchem Land ist der Euro **nicht** gesetzliches Zahlungsmittel?

1. Tschechische Republik
2. Luxemburg
3. Niederlande
4. Österreich
5. Frankreich